

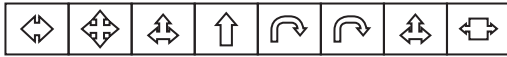
1.



5 ve 5'in katlarındaki görüntü 85'inci sütunda da aynı görüntü olur.

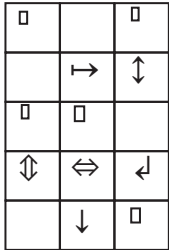
Cevap: B

2. Her harf bir şekil ile gösterilmiş



Cevap: D

3. Sağ ve sol şekiller birleştirilmiş



Cevap: E

4. Büyük kare saat yönünün ters yönünde siyahlar ilerliyor. İçerdeki karede ise saat yönünde



Cevap: D

5.



Zikzak bir sola bir sağa daireler yerinde her adımda bir siyah beyazlıyor. Çizgi her adımda bir artıyor. Zikzak ile yer değiştiriyor.

Cevap: B

6.



Cevap: E

7.



I. ve II. şekiller ayrı III. şekilde siyah olmayanlar siyah olmakta.

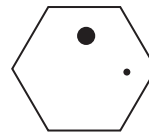
Cevap: C

8.



Cevap: D

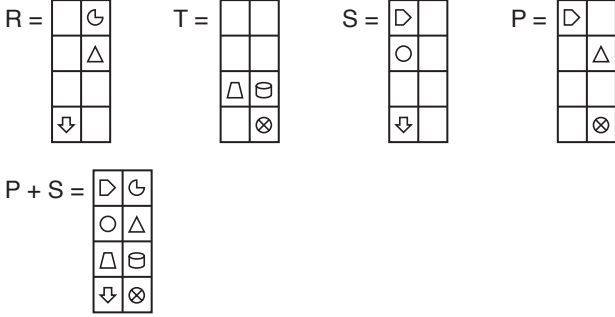
9.



X ve Y üst üste getirilmekte aynı şekil Z'ye taşınmamakta.

Cevap: B

10. Üst üste konulmakta

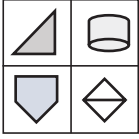


11.



Sağ taraftaki ayna görüntüsü

12.



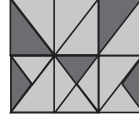
13. Saat yönünde ters çevirmekte



14. Sola doğru çevir.

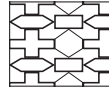


15. Simetrisi alınmış yani sağda aynadaki görüntü.



Cevap: E

16. Şekli tamamlayan parça



Cevap: B

17.

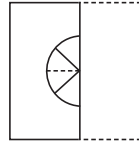


I = II ve III = IV

Cevap: D

Cevap: A

18. Sağı solun üstüne katlıyoruz.



Cevap: D

Cevap: A

19. İlk iki şekil birleştirilip üçüncü sütundaki şekil oluşmakta.



Cevap: E

Cevap D

20. İlk iki şekil üst üste konulmakta iki siyah nokta üst üste geldiğinde beyazlamakta bir siyah bir beyaz beyaz olmakta iki beyaz beyaz olmakta.



Cevap: C

Cevap: E