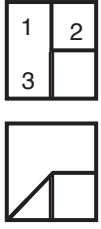


1.



1 → 90° sola ilerlemekte
2 → 45° sağa ilerlemekte

2.



3.



Siyah kare → daire → altıgen → üçgen → beyaz kare
şeklinde

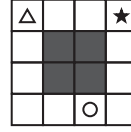
4.



5. Dış çizgi bir fazlalaşiyor.
İç çizgi bir azalıyor.



6.

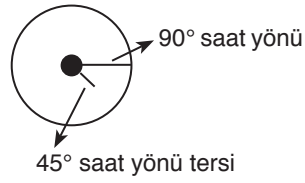


★ → Sağa doğru bir kare
△ → Yukarı doğru bir kare
○ → Aşağı doğru bir kare

Cevap: E

Cevap: D

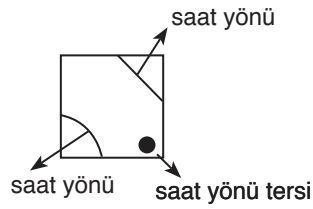
7.



Cevap: E

Cevap: D

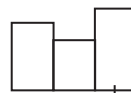
8.



Cevap: D

Cevap: B

9.



Sağa doğru bir adım ilerlemekte.

Cevap: C

Cevap: D

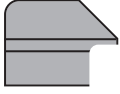
10.



Cevap: B

Cevap: E

11.



Alttađı şekil sađa dođru birer adım ilerlemekte.

Cevap: C


12.



Saat yönünün tersinde çevrilmekte.

Cevap: B

13. Altıgen, beşgen, dörtgen, üçgen



her ilerleyişte kenar sayısı bir azaltılmaktadır.


Cevap: E

14.



Cevap: A

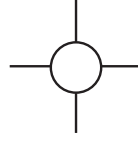
15.



İç şekil dışa, dıştaki şekilde içerde oluşmakta.

Cevap: D

16.



Cevap: C

17.



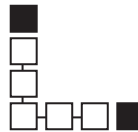
Cevap: C

18.



Cevap: B

19.



Cevap: A

20.



Cevap: A